



EXERCICE 1 : vacances sportives ...

sur la copie

Madame K est une grande sportive !

Pendant ses vacances, elle a suivi les Jeux olympiques avec intérêt !

Voici un extrait de son journal préféré.

Lis attentivement l'article puis réponds aux questions.



BUZZ DU SPORT

POUR LES PASSIONNÉS DE SPORT

AOÛT 2021 - NUMÉRO 108



Médailles TOKYO 2020

Par délégation

Top 10

Classement	O	A	B	TOTAL
1 États-Unis	39	41	33	113
2 Chine	38	32	18	88
3 Japon	27	14	17	58
4 Gde-Bretagne	22	21	22	65
5 ROC*	20	28	23	71
6 Australie	7	22	22	51
7 Pays-Bas	10	12	14	36
8 France	10	12	11	33
9 Allemagne	10	11	16	37
10 Italie	10	10	20	40

*Athlètes olympiques de Russie **AFP**

O : or A : argent B : bronze

LE RÉSUMÉ

Ce dimanche 8 août marque le dernier jour des Jeux olympiques de Tokyo, lancés le 23 juillet dernier. Le tableau des médailles est désormais connu : grâce à ses 10 médailles d'or, la France se place 8^{ème}.

Pour la France, c'est un peu moins bien que lors des Jeux de Rio, en 2016. À l'époque, déjà, les Bleu.e.s avaient aussi remporté 10 médailles d'or, mais également 18 médailles d'argent et 14 médailles de bronze, se classant 7^{ème} au tableau des médailles.

1. Calcule le nombre total de médailles gagnées par les États-Unis.
2. Calcule le nombre de médailles d'or gagnées par l'Australie.
3. Combien de médailles d'argent la Grande-Bretagne a-t-elle gagné ?
4. Quel pays a gagné 14 médailles de bronze ?
5. Quels sont les pays qui ont gagné le même nombre de médailles de bronze ?
6. Combien de médailles la France a-t-elle gagné aux Jeux olympiques de Rio ?



Sauras-tu expliquer pourquoi la France est classée avant l'Allemagne ?

EXERCICE 2 : Madame K a besoin d'aide

Sur la copie et sur l'énoncé

Après deux mois de vacances, Madame K a oublié le code de son ordinateur composé de quatre chiffres !

Cependant, elle se rappelle avoir noté un petit jeu dans son carnet afin de le retrouver. Lis bien les instructions et aide madame K à retrouver le code.

Remplis la grille pour que tous les chiffres de 1 à 5 soient inscrits une seule fois sur chaque ligne et chaque colonne.

Pour t'aider, les signes < (plus petit que) et > (plus grand que) te renseignent sur les deux chiffres contenus dans deux cases voisines.

Range dans l'ordre décroissant les chiffres qui se trouvent dans les cases entourées et écris sur la copie le code de l'ordinateur de madame K.

<input type="text"/>	2	1	<input type="text"/>	3
<input type="text"/>	<input type="text"/>	<input type="text"/>	<input type="text"/>	4
3	<input type="text"/>	2	5	<input type="text"/>
<input type="text"/>	1	<input type="text"/>	2	<input type="text"/>
1	<input type="text"/>	4	<input type="text"/>	<input type="text"/>








EXERCICE 3 : le matériel pour la rentrée
























Sur la copie et sur l'énoncé

Pour bien travailler au collège, il faut avoir son matériel.

Madame K a fait ses courses de rentrée. Trouve le prix de chaque article pour que les opérations soient justes. Pour t'aider, le prix du crayon est donné.

N'oublie pas d'écrire les opérations sur ta copie.

 = 3 €	 = ...
 = ...	 = ...
 = ...	 = ...
 = ...	

 +  +  = 
 +  =  -  = 
 +  =  +  +  + 
 -  =  +  = 
 ×  =  + 